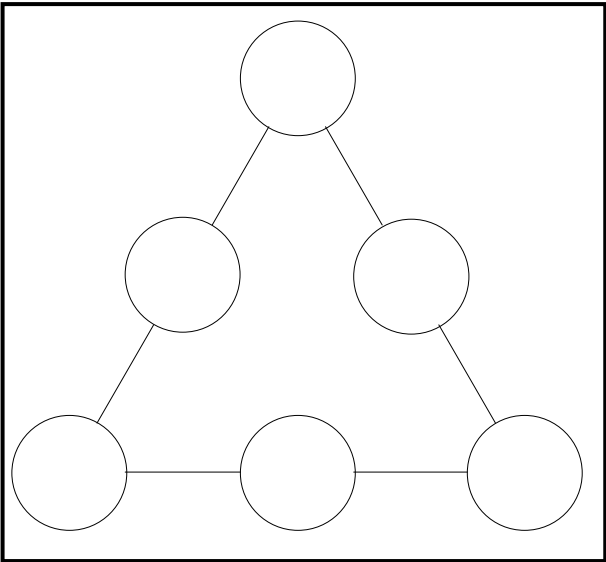


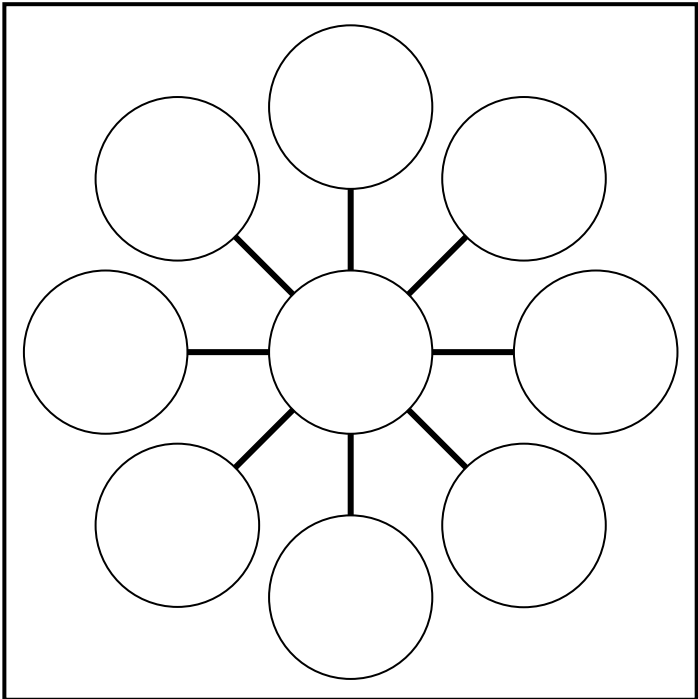
Place les nombres de 1 à 6 dans les bulles de telle façon que la somme des nombres sur chaque côté du triangle soit la même.



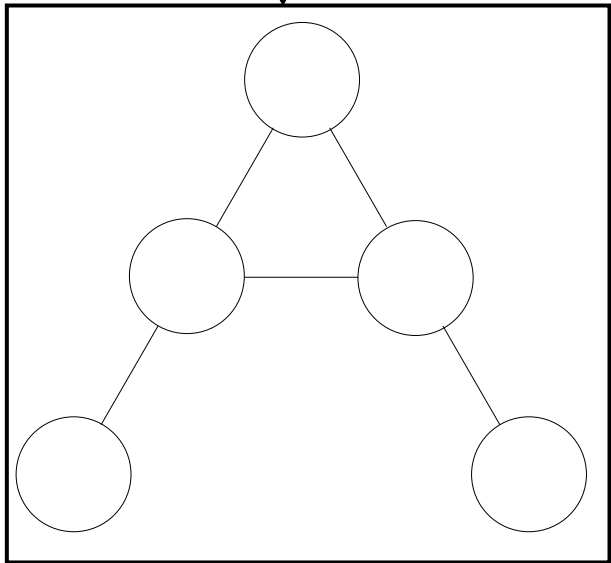
Ce tableau doit être complété par quatre nombres entiers en tenant compte des produits indiqués au bout de chaque ligne et chaque colonne.

	5		← 130
5			← 385
↑ 10	↑ 55	↑ 91	

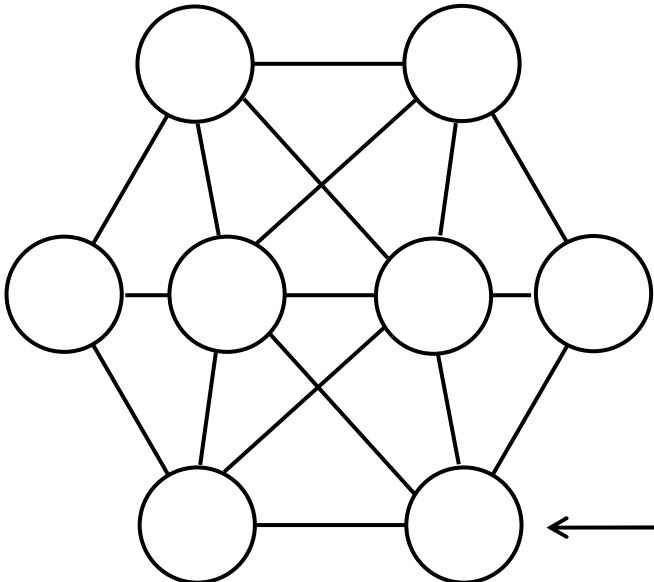
Place les nombres 1 à 9 sur l'étoile : Il faut que la somme sur chaque alignement soit égale à 15.



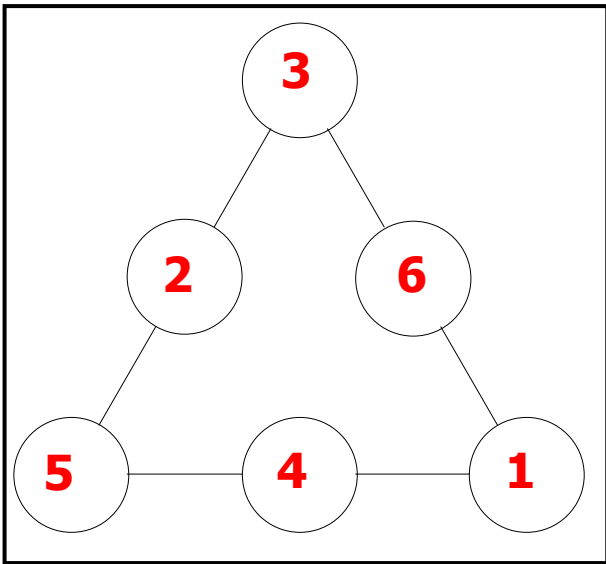
Place les nombres 1 à 5 pour que la somme soit la même sur chaque alignement.



Place les nombres 1 à 8 dans les bulles : deux nombres consécutifs ne doivent pas être reliés par un trait.



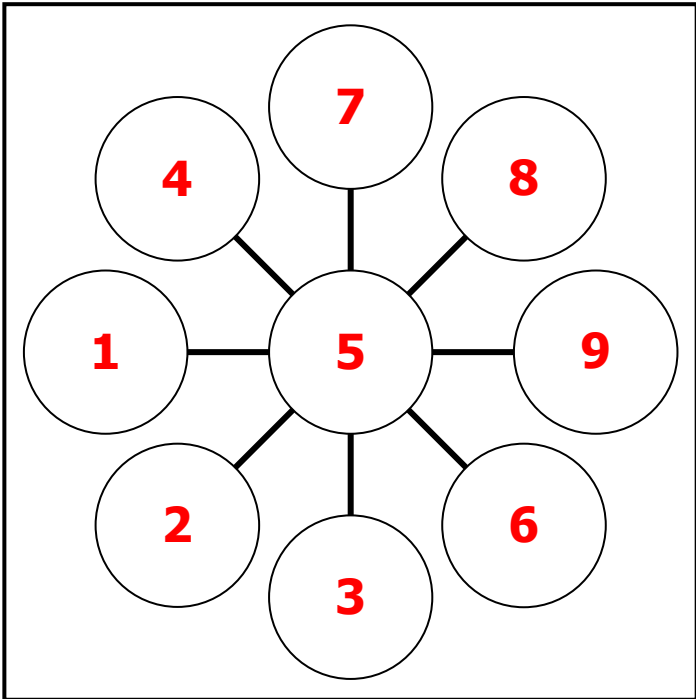
Place les nombres de 1 à 6 dans les bulles de telle façon que la somme des nombres sur chaque côté du triangle soit la même.



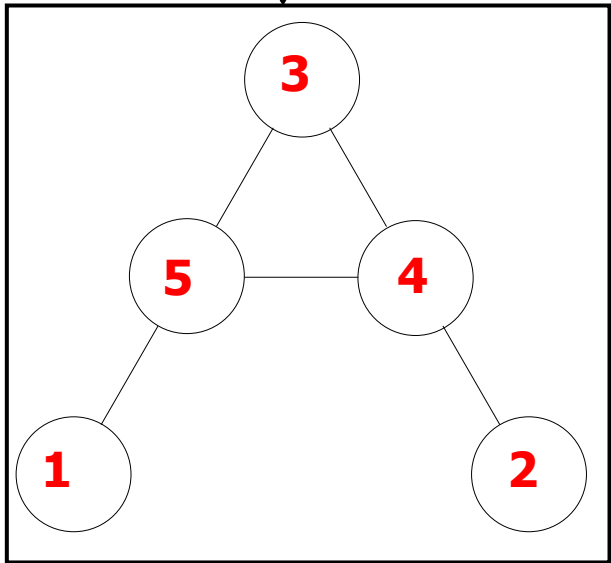
Ce tableau doit être complété par quatre nombres entiers en tenant compte des produits indiqués au bout de chaque ligne et chaque colonne.

2	5	13	← 130
5	11	7	← 385
↑ 10	↑ 55	↑ 91	

Place les nombres 1 à 9 sur l'étoile : Il faut que la somme sur chaque alignement soit égale à 15.



Place les nombres 1 à 5 pour que la somme soit la même sur chaque alignement.



Place les nombres 1 à 8 dans les bulles : deux nombres consécutifs ne doivent pas être reliés par un trait.

